



Fecha 17/10/07	I.E.S. Cristóbal de Monroy	Ejercicios
	Informática Aplicada	Tema 1
	El ordenador y sus componentes	

Identifica cada uno de los componentes enumerados en las siguientes imágenes:




- 1) _____
- 2) _____
- 3) _____
- 4) _____
- 5) _____
- 6) _____
- 7) _____
- 8) _____
- 9) _____
- 10) _____
- 11) _____
- 12) _____



Indica qué dispositivo podemos conectar en cada uno de los siguientes puertos de comunicaciones:

- 1) _____
- 2) _____
- 3) _____
- 4) _____
- 5) _____
- 6) _____
- 7) _____



Indica las principales funciones de los componentes que aparecen en las imágenes superiores:
